

2009年全国小学生数学能力竞赛二年级组(样题)

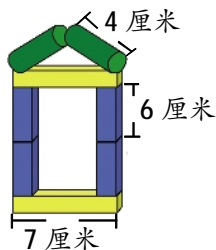


相信自己一定行!

(试题总分: 100分 答题时间: 60分钟)

一、动脑思考、填一填。(每空3分, 共18分)

1. 豆豆用8块积木搭了一座漂亮的房子(如右图), 如果把这些积木连成一条直线, 至少要分别测量()块积木的长度, 才能求出这些积木一共有多长。这些积木一共长()厘米。



2. 我今年9岁, 妈妈比我大27岁, 奶奶比妈妈大28岁, 奶奶比我大()岁。

3. 一只蜜蜂去采蜜, 发现了一大片花, 它又叫来4只蜜蜂一起采蜜。请问, 这些采蜜的蜜蜂一共有()条腿。



4. 每两点之间画一条线, 最多可以画()条线。



5. 去年我5岁, 今年爸爸的岁数是我的6倍, 去年爸爸()岁。



二、认真读题、选一选。

(每题3分, 共12分)

6. 下列式子正确的是()。

A. $60 > 34 + 36$ B. $74 - 28 < 48$ C. $52 = 24 + 2$

- 7.



15元



8元



25元

买()的价格之和最接近30元。

A. 钢笔和帽子 B. 帽子和篮球 C. 钢笔和篮球

8. 同学们去春游, 校车上共有60个座位。二(1)班有36人, 二(2)班有23人, 两个班()合乘这辆车。

A. 可以
B. 不可以

9. 六十几加二十几得数可能是()。

A. 八十几 B. 九十几 C. 七十几
D. 70 E. 80 F. 90

小朋友, 这道题不只一个答案哟, 你一定都能找出来!

小朋友要细心哟!



三、认真准确、算一算。(共30分)

10. 猜猜我是谁。(每题5分, 共20分)

(1)



我再多18就是65了。

(2)



我有两个因数, 都是6。

(3)



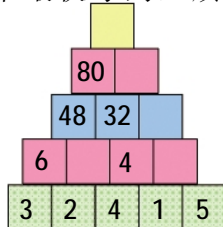
我是7个3相加, 再加5。

(4)



6个6个数, 我要数5次。

11. 找规律填数, 看谁最快夺到红旗。(10分)



四、实际问题、解一解。(共20分)

生活中的问题一定难不倒你!



12. 阿姨家养了6只兔子, 有2只黑兔, 4只白兔, 每只白兔生了3只小兔, 阿姨家一共有多少只兔子?(6分)



13. 昆虫王国举办划船比赛, 蜗牛队有6只蜗牛, 蚂蚁队的队员是蜗牛队的3倍少3只, 蚂蚁有多少只?(6分)



我们个蜗牛个头也大!

别看我们蚂蚁长得小, 我们人多力量大!



14. 买衣服。(8分)

①



45元

②



36元

③



38元

④



35元

妈妈带了80元, 要给我买一套衣服, 可以怎么买? 还剩多少元?

相信自己, 战胜自己!

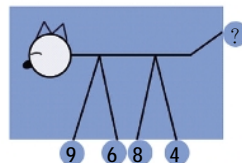
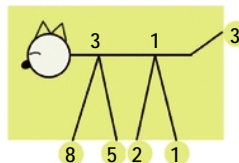


五、仔细分析、找规律。(10分)

15. 请小朋友研究图1的数字规律, 并应用这个规律算出图2问号处的数。



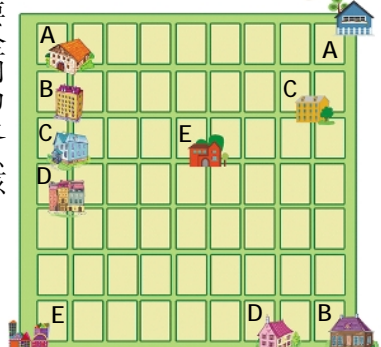
到底是什么数, 赶快告诉我!



六、轻轻松松、做游戏。(10分)

16. 有5个小朋友, 分别要去探望他们各自的同学生, 现在要求5个小朋友所走路线完全不能相交(注: 5个小朋友住的房子和他们各自的同学生住的房子字母编号是一样的, 分别是A、B、C、D、E)。那么, 他们到底应该怎样走呢?

快乐数学, 快乐学习!



祝贺你做完了全部试题, 如果还有时间, 请赶快检查一下!

(参考答案见下期)